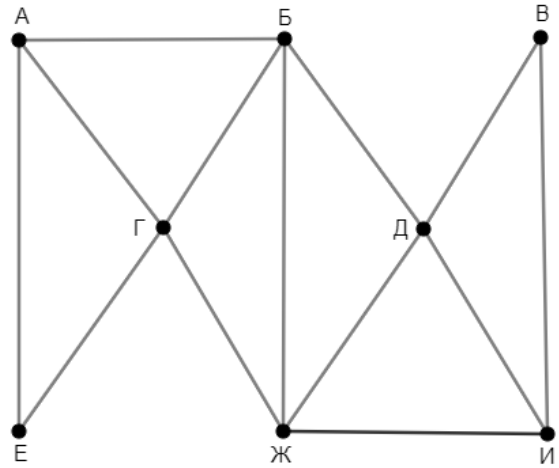


1

На рисунке схема дорог изображена в виде графа, в таблице содержатся сведения о длине этих дорог в километрах. Так как таблицу и схему рисовали независимо друг от друга, нумерация населённых пунктов в таблице никак не связана с буквенными обозначениями на графе. Известно, что дорога АБ длиннее дороги БД. Определите длину дороги ГЖ.

	П1	П2	П3	П4	П5	П6	П7	П8
П1					29	36		
П2			17	18			20	23
П3		17		31			34	
П4		18	31					
П5	29					24		19
П6	36				24		16	21
П7		20	34			16		33
П8		23			19	21	33	



Ответ: \_\_\_\_\_.

2 Логическая функция  $F$  задаётся выражением:

$$(x \equiv \neg y) \rightarrow ((z \rightarrow \neg w) \wedge (w \rightarrow y))$$

Дан частично заполненный фрагмент, содержащий **неповторяющиеся** строки таблицы истинности функции  $F$ .

Определите, какому столбцу таблицы истинности соответствует каждая из переменных  $w, x, y, z$ .

Переменная 1	Переменная 2	Переменная 3	Переменная 4	Функция
???	???	???	???	$F$
1	1	0	1	1
0		0		0
			0	0

В ответе напишите буквы  $w, x, y, z$  в том порядке, в котором идут соответствующие им столбцы (сначала буква, соответствующая первому столбцу; затем буква, соответствующая второму столбцу, и т. д.). Буквы в ответе пишите подряд, никаких разделителей между буквами ставить не нужно.

*Пример.* Пусть задано выражение  $x \rightarrow y$ , зависящее от двух переменных  $x$  и  $y$ , и фрагмент таблицы истинности:

Переменная 1	Переменная 2	Функция
???	???	$F$
0	1	0

Тогда первому столбцу соответствует переменная  $y$ , а второму столбцу – переменная  $x$ . В ответе нужно написать:  $yx$ .

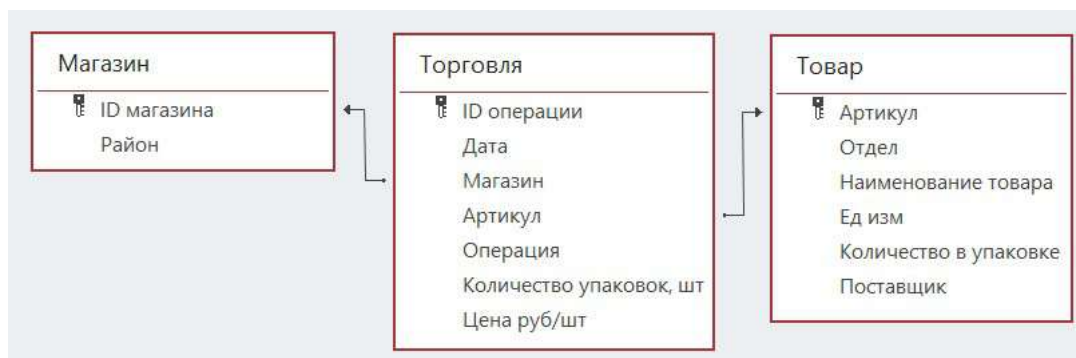
Ответ: \_\_\_\_\_.

**Задание выполняется с использованием прилагаемых файлов.**

**3** В файле приведён фрагмент базы данных «Продукты», содержащей информацию о поставках товаров и их продаже. База данных состоит из трёх таблиц.

Таблица «Торговля» содержит записи о поставках и продажах товаров в магазинах города в июне 2021 г. Таблица «Товар» содержит данные о товарах. Таблица «Магазин» содержит данные о магазинах.

На рисунке приведена схема базы данных, содержащая все поля каждой таблицы и связи между ними.



Используя информацию из приведённой базы данных, определите магазин, получивший наибольшую общую сумму выручки от продаж товаров отдела «Молоко» с 10 по 12 июня.

В ответе запишите число – найденную наибольшую сумму выручки в рублях.

Ответ: \_\_\_\_\_.

**4** Все заглавные буквы русского алфавита закодированы неравномерным двоичным кодом, в котором никакое кодовое слово не является началом другого кодового слова. Это условие обеспечивает возможность однозначной расшифровки закодированных сообщений. Известны кодовые слова некоторых букв: А – 00, М – 0100, Д – 101, Х – 11. Известно также, что код слова ЛИЛИЯ содержит 17 двоичных знаков. Сколько двоичных знаков содержит код слова МИЛЯ?

Ответ: \_\_\_\_\_.

5

Алгоритм получает на вход натуральное число  $N$  и строит по нему новое число  $R$  следующим образом:

1. Строится двоичная запись числа  $N$ .
2. Если сумма цифр десятичной записи заданного числа нечётна, то в конец двоичной записи дописывается 1, если чётна – 0.
- 3–4. Пункт 2 повторяется для вновь полученных чисел ещё два раза.
5. Результатом работы алгоритма становится десятичная запись полученного числа  $R$ .

*Пример.* Дано число  $N = 17$ . Алгоритм работает следующим образом:

1. Строим двоичную запись:  $17_{10} = 10001_2$ .
2. Сумма цифр числа 17 – чётная, дописываем к двоичной записи 0, получаем  $100010_2 = 34_{10}$ .
3. Сумма цифр числа 34 – нечётная, дописываем к двоичной записи 1, получаем  $1000101_2 = 69_{10}$ .
4. Сумма цифр числа 69 – нечётная, дописываем к двоичной записи 1, получаем  $10001011_2 = 139_{10}$ .
5. Результат работы алгоритма  $R = 139$ .

Определите наименьшее возможное значение  $R > 1028$ , которое может получиться в результате работы алгоритма.

Ответ: \_\_\_\_\_.

6

Исполнитель Черепаха передвигается по плоскости и оставляет след в виде линии. Черепаха может выполнять три команды: **Вперёд  $n$**  ( $n$  – число), **Направо  $m$**  ( $m$  – число), и **Налево  $m$**  ( $m$  – число). По команде **Вперёд  $n$**  Черепаха перемещается вперёд на  $n$  единиц. По команде **Направо  $m$**  Черепаха поворачивается на месте на  $m$  градусов по часовой стрелке, при этом соответственно меняется направление дальнейшего движения. По команде **Налево  $m$**  Черепаха поворачивается на месте на  $m$  градусов против часовой стрелки, при этом соответственно меняется направление дальнейшего движения. В начальный момент Черепаха находится в начале координат и направлена вверх (вдоль положительного направления оси ординат).

Запись **Повтори  $k$  [Команда1 Команда2 ... Команда $S$ ]** означает, что заданная последовательность из  $S$  команд повторится  $k$  раз.

Черепаха выполнила следующую программу:

**Повтори 4 [**

**Вперёд 7 Направо 90 Вперёд 7 Налево 90 Вперёд 7 Направо 90**

**]**

Определите, сколько точек с целочисленными координатами будут находиться внутри области, ограниченной линией, полученной при выполнении данной программы. Точки, расположенные на линии, не учитывать.

Ответ: \_\_\_\_\_.

**7** Изображение было отсканировано с разрешением 150 dpi, а затем сохранено со сжатием на 20 %. Размер полученного файла составил 4 Мбайт. Затем то же изображение было отсканировано с разрешением 300 dpi и сохранено со сжатием на 40 %. Определите размер нового файла. В ответе запишите только число – размер файла в Мбайтах.

Ответ: \_\_\_\_\_.

**8** Вероника составляет коды из букв слова ВЕРОНИКА. Код должен состоять из 6 букв, любую букву можно использовать произвольное число раз или не использовать вовсе. Вероника хочет, чтобы гласных в каждом коде было больше, чем согласных. Сколько кодов, удовлетворяющих этому условию, она сможет составить?

Ответ: \_\_\_\_\_.

***Задание выполняется с использованием прилагаемых файлов.***

**9** В каждой строке электронной таблицы записаны пять натуральных чисел. Определите, сколько в таблице строк, для которых выполнены следующие условия:

- все числа в строке различны;
- нечётных чисел больше, чем чётных;
- сумма нечётных чисел меньше суммы чётных.

В ответе запишите число – количество строк, для которых выполнены эти условия.

Ответ: \_\_\_\_\_.

***Задание выполняется с использованием прилагаемых файлов.***

**10** Определите, сколько раз в тексте романа Михаила Булгакова «Мастер и Маргарита» встречается фамилия Лиходеев в начальной форме.

Ответ: \_\_\_\_\_.

**11** В базе данных хранится информация об объектах определённой структуры. Каждый объект описывается как последовательность из 290 простых элементов, при этом всего используется 1012 различных простых элементов. Каждое описание объекта записывается как последовательность кодов простых элементов, при этом код каждого элемента содержит одинаковое для всех элементов минимально возможное число битов, а для описания в целом отводится минимально возможное целое число байтов. Сколько Кбайтов потребуется для хранения 32 768 описаний, построенных по такой схеме? В ответе запишите только число – количество Кбайтов.

Ответ: \_\_\_\_\_.

12

Исполнитель Редактор получает на вход строку цифр и преобразует её. Редактор может выполнять две команды, в обеих командах  $v$  и  $w$  обозначают цепочки цифр.

А) **заменить** ( $v, w$ ).

Эта команда заменяет в строке первое слева вхождение цепочки  $v$  на цепочку  $w$ . Например, выполнение команды

**заменить** (111, 27)

преобразует строку 05111150 в строку 0527150.

Если в строке нет вхождений цепочки  $v$ , то выполнение команды **заменить** ( $v, w$ ) не меняет эту строку.

Б) **нашлось** ( $v$ ).

Эта команда проверяет, встречается ли цепочка  $v$  в строке исполнителя Редактор. Если она встречается, то команда возвращает логическое значение «истина», в противном случае возвращает значение «ложь». Строка исполнителя при этом не изменяется.

Дана программа для редактора:

НАЧАЛО

    ПОКА НЕ **нашлось** (00)

**заменить** (012, 30)

        ЕСЛИ **нашлось** (011)

            ТО

**заменить** (011, 20)

**заменить** (022, 40)

            ИНАЧЕ

**заменить** (01, 10)

**заменить** (02, 101)

            КОНЕЦ ЕСЛИ

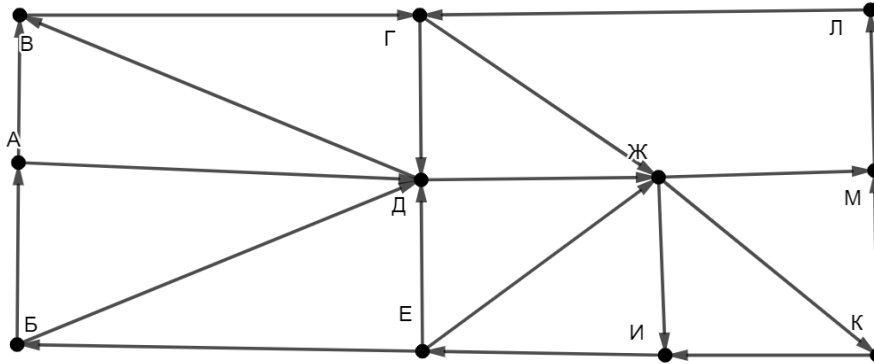
        КОНЕЦ ПОКА

КОНЕЦ

Известно, что исходная строка  $A$  содержала ровно два нуля – на первом и на последнем месте, а также по 10 единиц и двоек. После выполнения данной программы получилась строка  $B$ , содержащая 7 единиц и 5 двоек. Какое наименьшее количество троек может быть в строке  $B$ ?

Ответ: \_\_\_\_\_.

- 13 На рисунке представлена схема дорог, связывающих пункты А, Б, В, Г, Д, Е, Ж, И, К, Л, М. По каждой дороге можно передвигаться только в направлении, указанном стрелкой. Определите количество различных путей ненулевой длины, которые начинаются и заканчиваются в пункте Д, не содержат этот пункт в качестве промежуточного и проходят через любой другой пункт не более одного раза.



Ответ: \_\_\_\_\_.

- 14 В выражении  $123x_{37} + 4x59_{37}$   $x$  обозначает некоторую цифру из алфавита системы счисления с основанием 37. Определите **наименьшее** значение  $x$ , при котором значение данного выражения кратно 36. Для найденного  $x$  вычислите частное от деления данного выражения на 36 и запишите его в ответе в десятичной системе счисления.

Ответ: \_\_\_\_\_.

- 15 Обозначим через  $\text{ДЕЛ}(n, m)$  утверждение «натуральное число  $n$  делится без остатка на натуральное число  $m$ ».

Укажите **наименьшее** целое значение  $A$ , для которого формула

$$(\text{ДЕЛ}(144, x) \rightarrow \neg \text{ДЕЛ}(x, y)) \vee (x + y > 100) \vee (A - x > y)$$

тождественно истинна при любых натуральных значениях переменных  $x$  и  $y$ .

Ответ: \_\_\_\_\_.



**16** Обозначим частное от деления натурального числа  $a$  на натуральное число  $b$  как  $a \operatorname{div} b$ , а остаток как  $a \operatorname{mod} b$ . Например,  $13 \operatorname{div} 3 = 4$ ,  $13 \operatorname{mod} 3 = 1$ .

Алгоритм вычисления значения функции  $F(n)$ , где  $n$  – целое неотрицательное число, задан следующими соотношениями:

$$F(0) = 0;$$

$$F(n) = F(n \operatorname{div} 10) + (n \operatorname{mod} 10).$$

Укажите количество таких чисел  $n$  из интервала

$$237\,567\,892 \leq n \leq 1\,134\,567\,009,$$

для которых  $F(n) > F(n + 1)$

Ответ: \_\_\_\_\_.

*Задание выполняется с использованием прилагаемых файлов.*

**17** Файл содержит последовательность целых чисел, по модулю не превышающих 10 000. Назовём парой два идущих подряд элемента последовательности. Определите количество таких пар, в которых запись меньшего элемента заканчивается цифрой 5, а сумма квадратов элементов пары меньше, чем квадрат наименьшего из элементов последовательности, запись которых заканчивается цифрой 5. В ответе запишите два числа: сначала количество найденных пар, затем максимальную сумму квадратов элементов этих пар.

Ответ:

--	--

*Задание выполняется с использованием прилагаемых файлов.*

**18** Робот стоит в левом верхнем углу прямоугольного поля, в каждой клетке которого записано целое положительное число. За один ход робот может переместиться на одну клетку вправо, вниз, по диагонали вправо-вниз или по диагонали влево-вниз. Числа показывают расход энергии робота на прохождение клетки.

Определите максимальный расход энергии при переходе робота в правую нижнюю клетку поля и количество клеток с нечётными числами, через которые робот проходит на пути с максимальным расходом энергии. В ответе запишите два числа: сначала максимальный расход энергии, затем – количество пройденных клеток с нечётными значениями.

Исходные данные записаны в электронной таблице. Пример входных данных (для таблицы размером  $4 \times 4$ ):

43	90	2	44
72	30	36	63
62	6	61	42
21	84	49	51

При указанных входных данных максимальный расход получится при движении по маршруту  $43 + 90 + 72 + 30 + 36 + 63 + 61 + 84 + 49 + 51 = 579$ . При этом робот проходит через 5 клеток с нечётными числами (43, 63, 61, 49, 51). В ответе в данном случае надо записать числа 579 и 5.

Ответ:

--	--

**19** Два игрока, Петя и Ваня, играют в следующую игру. Перед игроками лежат две кучи камней. Игроки ходят по очереди, первый ход делает Петя. За один ход игрок может **добавить** в **меньшую** кучу **один камень**, **добавить два камня** или **увеличить** количество камней в куче в **два раза**. Изменять количество камней в большей куче не разрешается. Пусть, например, в начале игры в первой куче 5 камней, а во второй – 8 камней, будем обозначать такую позицию (5, 8). Петя первым ходом должен добавлять камни в первую кучу, он может получить позиции (6, 8), (7, 8) и (10, 8). Если Петя получает позиции (6, 8) и (7, 8), Ваня следующим ходом тоже должен добавлять камни в первую кучу, а если Петя получает позицию (10, 8), Ваня должен добавлять камни во вторую кучу, так как теперь она стала меньшей.

Игра завершается, когда общее количество камней в двух кучах становится более 80. Победителем считается игрок, сделавший последний ход, то есть первым получивший 81 или больше камней в двух кучах.

В начальный момент в первой куче было 12 камней, а во второй –  $S$  камней,  $1 \leq S \leq 68$ .

Будем говорить, что игрок имеет *выигрышную стратегию*, если он может выиграть при любых ходах противника.

Укажите **минимальное** из таких значений  $S$ , при которых Петя не может выиграть за один ход, но при любом ходе Пети Ваня сможет выиграть своим первым ходом.

Ответ: \_\_\_\_\_.

**20** Для игры, описанной в задании 19, укажите **минимальное** и **максимальное** из таких значений  $S$ , при которых Петя не может выиграть первым ходом, но у Пети есть выигрышная стратегия, позволяющая ему выиграть вторым ходом при любой игре Вани.

В ответе запишите сначала минимальное значение, затем максимальное.

Ответ:

--	--

**21** Для игры, описанной в задании 19, найдите **максимальное** из таких значений  $S$ , при которых у Вани есть стратегия, позволяющая ему выиграть первым или вторым ходом при любой игре Пети, но у Вани нет стратегии, которая позволяла бы ему гарантированно выиграть первым ходом.

Ответ: \_\_\_\_\_.

*Задание выполняется с использованием прилагаемых файлов.*

22

В компьютерной системе необходимо выполнить некоторое количество вычислительных процессов, которые могут выполняться параллельно или последовательно. Для запуска некоторых процессов необходимы данные, которые получаются как результаты выполнения одного или двух других процессов – поставщиков данных. Независимые процессы (не имеющие поставщиков данных) можно запускать в любой момент времени. Если процесс *B* (зависимый процесс) получает данные от процесса *A* (поставщика данных), то процесс *B* может начать выполнение сразу же после завершения процесса *A*. Любые процессы, готовые к выполнению, можно запускать параллельно, при этом количество одновременно выполняемых процессов может быть любым, длительность процесса не зависит от других параллельно выполняемых процессов.

В таблице представлены идентификатор (ID) каждого процесса, его длительность и ID поставщиков данных для зависимых процессов.

Определите, какое **наибольшее** количество процессов может быть завершено за первые 170 мс с момента запуска первого процесса.

Ответ: \_\_\_\_\_.

23

Исполнитель преобразует число на экране.

У исполнителя есть две команды, которым присвоены номера:

**1. Прибавить 1**

**2. Умножить на 2**

Первая команда увеличивает число на экране на 1, вторая умножает его на 2.

Программа для исполнителя – это последовательность команд. Например, если в начальный момент на экране находится число 1, то программа **212** последовательно преобразует его в 2, 3, 6.

Сколько существует программ, которые преобразуют исходное число 1 в число 14, и при этом никакая команда не повторяется более двух раз подряд?

Ответ: \_\_\_\_\_.

**Задание выполняется с использованием прилагаемых файлов.**

- 24** Текстовый файл содержит только буквы А, С, D, F, O. Определите длину самой длинной цепочки символов, которая начинается и заканчивается буквой F, а между двумя последовательными буквами F содержит не более двух букв А и произвольное количество других букв.

Ответ: \_\_\_\_\_.

- 25** Маска числа – это последовательность цифр, в которой могут встречаться специальные символы «?» и «\*». Символ «?» означает ровно одну произвольную цифру, символ «\*» означает произвольную (в том числе пустую) последовательность цифр.

**Пример.** Маске  $123*4?5$  соответствуют числа 123405 и 12376415.

Найдите все натуральные числа, не превышающие  $10^9$ , которые соответствуют маске  $12*63?5?$  и при этом без остатка делятся на 3123.

В ответе запишите все найденные числа в порядке возрастания.

Ответ:

...

**Задание выполняется с использованием прилагаемых файлов.**

**26**

На складе хранятся кубические контейнеры двух цветов различного размера. Чтобы сократить занимаемое при хранении место, контейнеры вкладывают друг в друга. Чтобы вложенные контейнеры было лучше видно, их цвета при вложении обязательно должны чередоваться, то есть нельзя вкладывать контейнер в контейнер такого же цвета. Один контейнер можно вложить в другой, если размер стороны внешнего контейнера превышает размер стороны внутреннего на 5 и более условных единиц. Группу вложенных друг в друга контейнеров называют блоком. Количество контейнеров в блоке может быть любым. Каждый блок, независимо от количества и размера входящих в него контейнеров, а также каждый одиночный контейнер, не входящий в блоки, занимает при хранении одну складскую ячейку. Зная размеры и цвета всех контейнеров, определите максимально возможное количество контейнеров в одном блоке и минимальное количество ячеек для хранения всех контейнеров.

**Входные данные**

Каждая строка входного файла содержит натуральное число и букву А или В. Число обозначает размер контейнера в условных единицах, буква – цвет этого контейнера (буквами А и В условно обозначены два цвета).

В ответе запишите два целых числа: сначала максимально возможное количество контейнеров в одном блоке, затем минимальное количество ячеек для хранения всех контейнеров.

Ответ:

--	--

**Задание выполняется с использованием прилагаемых файлов.**

**27**

Дана последовательность натуральных чисел. Назовём парой любые два числа из последовательности. Необходимо определить количество пар, в которых сумма чисел в паре делится без остатка на 4, а их произведение на 6561.

**Входные данные**

Первая строка входного файла содержит целое число  $N$  – общее количество чисел в наборе. Каждая из следующих  $N$  строк содержит одно число, не превышающее 100 000. Гарантируется, что число в ответе не превышает  $2 \cdot 10^9$ .

Вам даны два входных файла (A и B), каждый из которых имеет описанную выше структуру. В ответе укажите два числа: сначала искомое количество пар для файла A, затем – для файла B.

Ответ:

--	--